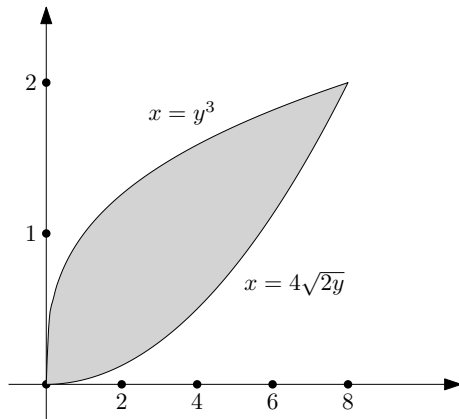
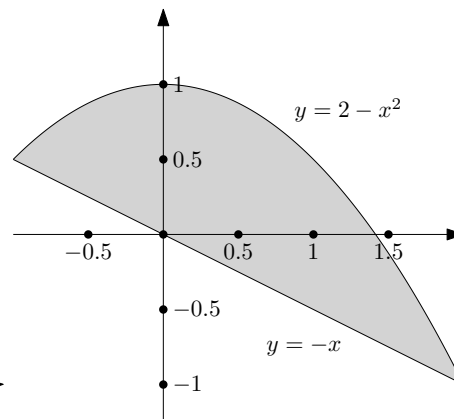


Musterlösungen zu Serie 4

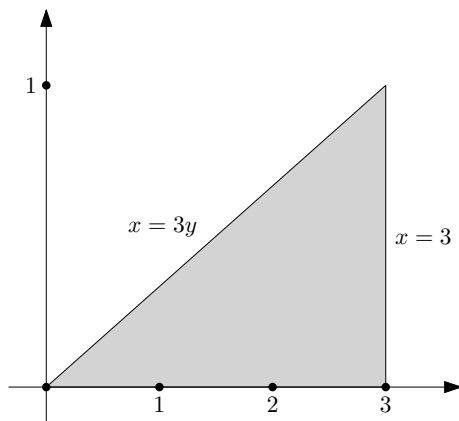
1. a) Die Integrationsgebiete sehen wie folgt aus:



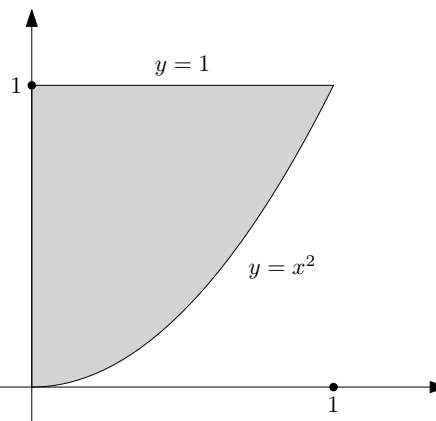
Das Integrationsgebiet in i)



Das Integrationsgebiet in ii)



Das Integrationsgebiet in iii)



Das Integrationsgebiet in iv)

b) i) Es gilt (vgl. die Skizze in a))

$$\begin{aligned} & \{ (x, y) \in \mathbb{R}^2 \mid 0 \leq y \leq 2, y^3 \leq x \leq 4\sqrt{2y} \} \\ & = \{ (x, y) \in \mathbb{R}^2 \mid 0 \leq x \leq 8, x^2/32 \leq y \leq \sqrt[3]{x} \}, \end{aligned}$$

und damit
$$\int_0^2 \int_{y^3}^{4\sqrt{2y}} f(x, y) dx dy = \int_0^8 \int_{x^2/32}^{\sqrt[3]{x}} f(x, y) dy dx.$$

Bitte wenden!

ii) Es gilt (vgl. die Skizze in a))

$$\begin{aligned} & \{ (x, y) \in \mathbb{R}^2 \mid -1 \leq x \leq 2, -x \leq y \leq 2 - x^2 \} \\ &= \{ (x, y) \in \mathbb{R}^2 \mid -2 \leq y \leq 1, -y \leq x \leq \sqrt{2-y} \} \\ & \cup \{ (x, y) \in \mathbb{R}^2 \mid 1 \leq y \leq 2, -\sqrt{2-y} \leq x \leq \sqrt{2-y} \} \end{aligned}$$

und damit

$$\begin{aligned} \int_{-1}^2 \int_{-x}^{2-x^2} g(x, y) \, dy \, dx &= \int_{-2}^1 \int_{-y}^{\sqrt{2-y}} g(x, y) \, dx \, dy + \int_1^2 \int_{-\sqrt{2-y}}^{\sqrt{2-y}} g(x, y) \, dx \, dy \\ &= \int_{-2}^2 \int_{\max\{-y, -\sqrt{2-y}\}}^{\sqrt{2-y}} g(x, y) \, dx \, dy. \end{aligned}$$

iii) Es gilt (vgl. die Skizze in a))

$$\begin{aligned} & \{ (x, y) \in \mathbb{R}^2 \mid 0 \leq y \leq 1, 3y \leq x \leq y \} \\ &= \{ (x, y) \in \mathbb{R}^2 \mid 0 \leq x \leq 3, 0 \leq y \leq x/3 \}, \end{aligned}$$

und damit $\int_0^1 \int_{3y}^3 e^{x^2} \, dx \, dy = \int_0^3 \int_0^{x/3} e^{x^2} \, dy \, dx.$

iv) Es gilt (vgl. die Skizze in a))

$$\begin{aligned} & \{ (x, y) \in \mathbb{R}^2 \mid 0 \leq x \leq 1, x^2 \leq y \leq 1 \} \\ &= \{ (x, y) \in \mathbb{R}^2 \mid 0 \leq y \leq 1, 0 \leq x \leq \sqrt{y} \}, \end{aligned}$$

und damit $\int_0^1 \int_{x^2}^1 x^3 \sin y^3 \, dy \, dx = \int_0^1 \int_0^{\sqrt{y}} x^3 \sin y^3 \, dx \, dy.$

c) i) Wir integrieren zuerst über y . Nach b) gilt

$$\begin{aligned} \int_0^1 \int_{3y}^3 e^{x^2} \, dx \, dy &= \int_0^3 \int_0^{x/3} e^{x^2} \, dy \, dx = \int_0^3 \frac{x}{3} e^{x^2} \, dx \\ &= \frac{1}{6} \int_0^3 2x e^{x^2} \, dx = \frac{1}{6} e^{x^2} \Big|_0^3 = \frac{1}{6} (e^9 - 1). \end{aligned}$$

Bemerkung: Der Integrand $x \mapsto e^{x^2}$ besitzt keine Stammfunktion, die sich mithilfe von elementaren Funktionen darstellen lässt. Wollten wir zunächst nach x integrieren, so müssten wir das resultierende Integral durch die Gaussische Fehlerfunktion (vgl. Serie 6 vom HS 12) darstellen. Die nachträgliche Integration nach y gestaltete sich dann entsprechend umständlich.

Siehe nächstes Blatt!

ii) Wir integrieren zuerst über x . Nach **b)** gilt

$$\begin{aligned} \int_0^1 \int_{x^2}^1 x^3 \sin y^3 dy dx &= \int_0^1 \int_0^{\sqrt{y}} x^3 \sin y^3 dx dy \\ &= \int_0^1 \frac{x^4}{4} \Big|_0^{\sqrt{y}} \sin y^3 dy = \frac{1}{12} \int_0^1 3y^2 \sin y^3 dy \\ &= \frac{1}{12} (-\cos y^3) \Big|_0^1 = \frac{1}{12} (1 - \cos 1) \end{aligned}$$

Bemerkung: Auch hier ist die ursprüngliche Integrationsreihenfolge unangezeigt, da der Integrand $y \mapsto \sin y^3$ keine Stammfunktion besitzt, die sich mithilfe von elementaren Funktionen darstellen lässt.

2. a) Es ist

$$\begin{aligned} A &= \{ (x, y) \in \mathbb{R}^2 \mid x^2 + y^2 \leq 4 \} \\ &= \{ (r \cos \varphi, r \sin \varphi) \in \mathbb{R}^2 \mid 0 \leq r \leq 2, 0 \leq \varphi \leq 2\pi \}. \end{aligned}$$

In Polarkoordinaten ergibt sich daher

$$\begin{aligned} \iint_A (1 - 2x - 3y) dx dy &= \int_0^{2\pi} \int_0^2 (1 - 2r \cos \varphi - 3r \sin \varphi) r dr d\varphi \\ &= \int_0^{2\pi} \frac{3r^2 - 4r^3 \cos \varphi - 6r^3 \sin \varphi}{6} \Big|_{r=0}^2 d\varphi \\ &= 2 \int_0^{2\pi} d\varphi - \frac{16}{3} \int_0^{2\pi} \cos \varphi d\varphi - 8 \int_0^{2\pi} \sin \varphi d\varphi = 4\pi. \end{aligned}$$

b) Es ist

$$\begin{aligned} B &= \{ (x, y) \in \mathbb{R}^2 \mid x^2 + y^2 \leq 1, x, y \geq 0 \} \\ &= \{ (r \cos \varphi, r \sin \varphi) \in \mathbb{R}^2 \mid 0 \leq r \leq 1, 0 \leq \varphi \leq \pi/2 \}. \end{aligned}$$

In Polarkoordinaten ergibt sich daher

$$\begin{aligned} \iint_B e^{x^2+y^2-1} dx dy &= \int_0^{\pi/2} \int_0^1 e^{r^2-1} r dr d\varphi = \frac{\pi}{2} \int_0^1 e^{r^2-1} r dr \\ &= \frac{\pi}{2} \frac{e^{r^2-1}}{2} \Big|_0^1 = \frac{\pi}{2} \frac{1 - 1/e}{2} = \frac{\pi}{4} \left(1 - \frac{1}{e} \right). \end{aligned}$$

c) Es ist

$$\begin{aligned} C &= \{ (x, y) \in \mathbb{R}^2 \mid 1 \leq x^2 + y^2 \leq 9, x, y \geq 0 \} \\ &= \{ (r \cos \varphi, r \sin \varphi) \in \mathbb{R}^2 \mid 1 \leq r \leq 3, 0 \leq \varphi \leq \pi/2 \} \end{aligned}$$

analog zu **b)**.

Bitte wenden!

In Polarkoordinaten ergibt sich daher

$$\begin{aligned} \iint_C \frac{xy}{(x^2 + y^2)^{\frac{3}{2}}} dx dy &= \int_0^{\pi/2} \int_1^3 \frac{r^2 \cos \varphi \sin \varphi}{r^3} r dr d\varphi \\ &= 2 \int_0^{\pi/2} \cos \varphi \sin \varphi d\varphi = -\cos^2 \varphi \Big|_{\varphi=0}^{\pi/2} = 1. \end{aligned}$$

d) Es ist (wegen $\frac{1}{\sqrt{3}} = \tan \frac{\pi}{6}$ und $\sqrt{3} = \tan \frac{\pi}{3}$)

$$\begin{aligned} D &= \{ (x, y) \in \mathbb{R}^2 \mid 1 \leq x^2 + y^2 \leq 9, x/\sqrt{3} \leq y \leq \sqrt{3}x \} \\ &= \{ (r \cos \varphi, r \sin \varphi) \in \mathbb{R}^2 \mid 1 \leq r \leq 3, \pi/6 \leq \varphi \leq \pi/3 \}. \end{aligned}$$

In Polarkoordinaten ergibt sich daher

$$\begin{aligned} \iint_D \arctan \frac{y}{x} dx dy &= \iint_D \arctan \tan \varphi dx dy \\ &= \int_{\pi/6}^{\pi/3} \int_1^3 \varphi r dr d\varphi = \int_{\pi/6}^{\pi/3} \varphi d\varphi \int_1^3 r dr \\ &= \frac{\varphi^2}{2} \Big|_{\pi/6}^{\pi/3} \frac{r^2}{2} \Big|_1^3 = \frac{\pi^2}{24} 4 = \frac{\pi^2}{6}. \end{aligned}$$

3. a) In Zylinderkoordinaten sind die beiden Paraboloiden durch

$$z = r^2 \quad \text{und} \quad z = 8 - r^2$$

gegeben. Wegen

$$r^2 = 8 - r^2 = z, \quad r \geq 0 \quad \Rightarrow \quad r = 2, \quad z = 4$$

schneiden sie sich in einem Kreis mit Radius 2 in der Ebene $z = 4$. Das von den beiden Paraboloiden begrenzte endliche Volumen ist demnach

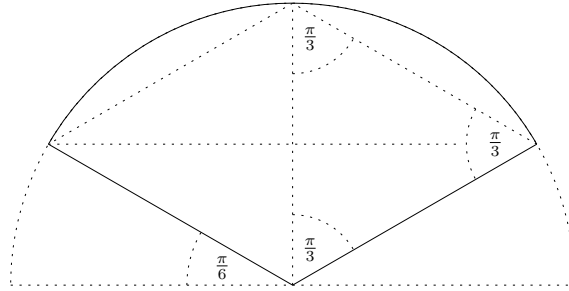
$$\begin{aligned} \int_{r^2}^{8-r^2} \int_0^{2\pi} \int_0^2 r dr d\varphi dz &= \int_0^{2\pi} \int_0^2 (8 - 2r^2) r dr d\varphi \\ &= 2\pi \left(4r^2 - \frac{2}{4} r^4 \right) \Big|_0^2 = 2\pi (16 - 8) = 16\pi. \end{aligned}$$

Alternativ ergibt sich das Volumen (ebenfalls in Zylinderkoordinaten) aus

$$\begin{aligned} 2 \int_0^4 \int_0^{2\pi} \int_0^{\sqrt{z}} r dr d\varphi dz &= 4\pi \int_0^4 \int_0^{\sqrt{z}} r dr dz \\ &= 4\pi \int_0^4 \frac{r^2}{2} \Big|_0^{\sqrt{z}} dz = 2\pi \int_0^4 z dz = 16\pi, \end{aligned}$$

da der begrenzte Körper symmetrisch zur Ebene $z = 4$ liegt.

Siehe nächstes Blatt!



Zu Aufgabe 3 b)

b) In Zylinderkoordinaten sind die beiden Flächen durch

$$z = \frac{r}{\sqrt{3}} \quad \text{und} \quad z = \sqrt{1-r^2}$$

gegeben. Wegen

$$\frac{r^2}{3} = 1 - r^2 = z^2, \quad r \geq 0 \quad \Rightarrow \quad r = \frac{\sqrt{3}}{2}, \quad z = \frac{1}{2}$$

schneiden sie sich in einem Kreis mit Radius $\frac{\sqrt{3}}{2}$ in der Ebene $z = 1/2$. Das von den beiden Flächen begrenzte endliche Volumen ist demnach

$$\begin{aligned} \int_0^{2\pi} \int_0^{\frac{\sqrt{3}}{2}} \left(\sqrt{1-r^2} - \frac{r}{\sqrt{3}} \right) r \, dr \, d\varphi &= 2\pi \int_0^{\frac{\sqrt{3}}{2}} \left(r\sqrt{1-r^2} - \frac{r^2}{\sqrt{3}} \right) dr \\ &= 2\pi \left(-\frac{(1-r^2)^{\frac{3}{2}}}{3} - \frac{r^3}{3\sqrt{3}} \right) \Big|_0^{\frac{\sqrt{3}}{2}} = 2\pi \left(\frac{7}{24} - \frac{1}{8} \right) = \frac{\pi}{3}. \end{aligned}$$

Da es sich bei dem Körper um einen Kugelausschnitt handelt, ist es allerdings natürlicher, das Volumen mittels **Kugelkoordinaten** zu berechnen (s. Figur):

$$\begin{aligned} \int_0^{\frac{\pi}{3}} \int_0^{2\pi} \int_0^1 r^2 \sin \vartheta \, dr \, d\varphi \, d\vartheta &= 2\pi \int_0^1 r^2 \, dr \int_0^{\frac{\pi}{3}} \sin \vartheta \, d\vartheta \\ &= 2\pi \frac{r^3}{3} \Big|_0^1 (-\cos \vartheta) \Big|_0^{\frac{\pi}{3}} = \frac{2\pi}{3} \left(1 - \frac{1}{2} \right) = \frac{\pi}{3}. \end{aligned}$$

4. a) Aufgrund der vorliegenden Symmetrie lässt sich die Masse offensichtlich am einfachsten in Kugelkoordinaten berechnen. Nach Voraussetzung gilt für die Dichte $\varrho(r) = \alpha r^3$ und $\varrho(1) = \alpha = \frac{1}{4}$, also ist die Masse der Kugel gegeben durch

$$\begin{aligned} \int_0^\pi \int_0^{2\pi} \int_0^2 \frac{r^3}{4} r^2 \sin \vartheta \, dr \, d\varphi \, d\vartheta &= \frac{\pi}{2} \int_0^2 r^5 \, dr \int_0^\pi \sin \vartheta \, d\vartheta \\ &= \frac{\pi}{2} \frac{r^6}{6} \Big|_0^2 (-\cos \vartheta) \Big|_0^\pi = \frac{\pi}{2} \frac{128}{6} = \frac{32\pi}{3}. \end{aligned}$$

Bitte wenden!

b) In Zylinderkoordinaten sind die beiden Flächen durch

$$z = \frac{r^2}{2} \quad \text{und} \quad z = \sqrt{3 - r^2}$$

gegeben. Wegen

$$\frac{r^4}{4} = 3 - r^2, \quad r \geq 0, \quad \Rightarrow \quad r = \sqrt{2}$$

schneiden sie sich in einem Kreis mit Radius $r = \sqrt{2}$ in der Ebene $z = 1$.

Das Volumen des begrenzten Körpers ist

$$\begin{aligned} V &= \int_0^{2\pi} \int_0^{\sqrt{2}} \left(\sqrt{3 - r^2} - \frac{r^2}{2} \right) r \, dr \, d\varphi = 2\pi \int_0^{\sqrt{2}} \left(r\sqrt{3 - r^2} - \frac{r^3}{2} \right) dr \\ &= 2\pi \left(-\frac{(3 - r^2)^{\frac{3}{2}}}{3} - \frac{r^4}{8} \right) \Big|_0^{\sqrt{2}} = 2\pi \left(\sqrt{3} - \frac{1}{3} - \frac{1}{2} \right) = \pi \left(2\sqrt{3} - \frac{5}{3} \right). \end{aligned}$$

Aus Symmetriegründen liegt der Schwerpunkt (ξ, η, ζ) offensichtlich auf der z -Achse, d.h. $\xi = \eta = 0$. Es genügt daher, die z -Komponenten zu berechnen:

$$\begin{aligned} \zeta &= \frac{1}{V} \int_{\frac{r^2}{2}}^{\sqrt{3-r^2}} \int_0^{2\pi} \int_0^{\sqrt{2}} z \, r \, dr \, d\varphi \, dz = \frac{1}{V} \int_0^{2\pi} \int_0^{\sqrt{2}} \frac{z^2}{2} \Big|_{\frac{r^2}{2}}^{\sqrt{3-r^2}} r \, dr \, d\varphi \\ &= \frac{\pi}{V} \int_0^{\sqrt{2}} \left(3 - r^2 - \frac{r^4}{4} \right) r \, dr = \frac{\pi}{V} \left(\frac{3r^2}{2} - \frac{r^4}{4} - \frac{r^6}{24} \right) \Big|_0^{\sqrt{2}} \\ &= \frac{\pi}{V} \left(3 - 1 - \frac{1}{3} \right) = \frac{\pi}{V} \frac{5}{3} = \frac{3}{6\sqrt{3} - 5} \frac{5}{3} = \frac{5}{83} (6\sqrt{3} + 5). \end{aligned}$$